

Αριθμοί μέχρι το 10 000



Όνομα: _____

Τάξη: _____

Ημερ.: _____

Μπορείς να τυπώσεις αυτό το φυλλάδιο ή να αντιγράψεις προσεκτικά τις ασκήσεις στο Τετράδιο Μαθηματικών και να τις λύσεις ή να γράψεις μόνο τις λύσεις σε ένα πρόχειρο τετράδιο.

Αριθμοί μέχρι το 10 000

Γνωρίζουμε ήδη τους:

- **Μονοψήφιους** αριθμούς που έχουν **μόνο ένα ψηφίο**: 0, 1, 2, 3, 4, 5, 6, 7, 8, 9.
- **Διψήφιους** αριθμούς που έχουν **δυο ψηφία**, π.χ. 10, 11, 12... 28... 54... 89... 91...99.
- **Τριψήφιους** αριθμούς, που έχουν **τρία ψηφία**, π.χ. 100, 101, 102, ... 189, 190, 191,... 302...594...784...999.

Σήμερα θα ασχοληθούμε με τους **τετραψήφιους αριθμούς**, που έχουν **τέσσερα ψηφία**, όπως οι πιο κάτω. Μάθε να μετράς χίλια-χίλια και να διαβάζεις τους τετραψήφιους αριθμούς προσεκτικά:

1000 = χίλια

1004 = χίλια τέσσερα

2000 = δυο χιλιάδες

2398 = δυο χιλιάδες τρακόσια ενενήντα οκτώ

3000 = τρεις χιλιάδες

3067 = τρεις χιλιάδες εξήντα εφτά

4000 = τέσσερις χιλιάδες

4154 = τέσσερις χιλιάδες εκατό πενήντα τέσσερα

5000 = πέντε χιλιάδες

5270 = πέντε χιλιάδες διακόσια εβδομήντα

6000 = έξι χιλιάδες

6433 = έξι χιλιάδες τετρακόσια τριάντα τρία

7000 = επτά χιλιάδες

7992 = επτά χιλιάδες εννιακόσια ενενήντα δυο

8000 = οκτώ χιλιάδες

8629 = οκτώ χιλιάδες εξακόσια είκοσι εννιά

9000 = εννιά χιλιάδες

9581 = εννιά χιλιάδες πεντακόσια ογδόντα ένα

Προσοχή! Ο αριθμός **10 000** (δέκα χιλιάδες) είναι **πενταψήφιος**, έχει **πέντε ψηφία**.

Αν θέλω να μετρήσω από το 3000 μέχρι το 4000 προχωράει κάπως έτσι:

3000, 3001, 3002, 3003, 3004, ... 3010, 3011, 3012, ... 3020, 3021... 3099, 3100, 3101, 3102, ... 3199, 3200, 3201, 3202, ... 3299, 3300, 3301, ... 3500... 3600... 3700... 3900, 3999, 4000!

Προσοχή! Όπου υπάρχει «...» σημαίνει ότι υπάρχουν κι άλλοι αριθμοί στο ενδιάμεσο!

ΑΣΚΗΣΗ 1. Βρίσκω και υπογραμμίζω στο πιο κάτω κείμενο τους τετραψήφιους αριθμούς. Μετά, τους γράφω με αριθμητικά σύμβολα, όπως στο παράδειγμα:

- Από τα ατυχήματα πετρελαιοφόρων πλοίων τη χρονιά χίλια εννιακόσια ενενήντα, χύθηκαν στη θάλασσα έξι χιλιάδες πεντακόσιοι δεκατρείς τόνοι πετρελαίου.
- Η έκταση της Κύπρου είναι εννέα χιλιάδες διακόσια πενήντα ένα τετραγωνικά χιλιόμετρα.
- Πολλά είδη θηλαστικών ζώων κινδυνεύουν να εξαφανιστούν. Ένα παράδειγμα είναι η τίγρη της Βεγγάζης. Τη χρονιά χίλια εννιακόσια εβδομήντα καταγράφηκαν χίλιες οκτακόσιες πενήντα τίγρεις. Σήμερα ο αριθμός τους αυξήθηκε στις τέσσερις χιλιάδες εξακόσιες ογδόντα τρεις.
- Τη χρονιά δυο χιλιάδες εβδομήντα τρία ίσως ο άνθρωπος να μπορεί να πετάει με ηλεκτρονικά φτερά.

1990

_____	_____	_____
_____	_____	_____
_____	_____	_____

ΑΣΚΗΣΗ 2. Γράψε τους πιο κάτω τετραψήφιους αριθμούς με λέξεις:

1876 χίλια οχτακόσια εβδομήντα έξι

1457

2220

3982

4490

5034

6336

ΑΣΚΗΣΗ 3. Γράψε τα παρακάτω με αριθμητικά σύμβολα, όπως στο παράδειγμα:

Χίλια διακόσια τριάντα επτά: 1237

Πέντε χιλιάδες οκτώ:

Τρεις χιλιάδες τετρακόσια εβδομήντα έξι:

Δυο χιλιάδες εφτακόσια σαράντα πέντε:

Έξι χιλιάδες οκτακόσια:

Εννιά χιλιάδες εξακόσια εβδομήντα τέσσερα:



ΑΣΚΗΣΗ 4.

- Γράφω το μοτίβο των τετραψήφιων αριθμών από το 1000 (χίλια) μέχρι το 10 000 (δέκα χιλιάδες), μετρώντας χίλια-χίλια:

1000, 2000, _____, _____, _____, _____, _____,
_____, 10 000.

- Γράφω το μοτίβο των τετραψήφιων αριθμών από το 1000 (χίλια) μέχρι το 2000 (δυο χιλιάδες), μετρώντας εκατό-εκατό:

1000, 1100, 1200, _____, _____, _____, _____, _____,
_____, 2000.

- Συμπληρώνω το παρακάτω μοτίβο των τετραψήφιων αριθμών:

1100, 2200, _____, _____, _____, _____, _____, _____, 9900.

ΑΣΚΗΣΗ 5. Χώρισε τους πιο κάτω τετραψήφιους αριθμούς σε άρτιους και περιττούς, και γράψε τους στον πίνακα που ακολουθεί.

3420, 1877, 2839, 2838, 7016, 1003, 3001, 2462, 8654, 4905

Θυμήσου ότι:


Οι άρτιοι (ζυγοί) αριθμοί τελειώνουν σε 0, 2, 4, 6, 8.
Οι περιττοί (μονοί) αριθμοί τελειώνουν σε 1, 3, 5, 7, 9.

Άρτιοι αριθμοί	Περιττοί αριθμοί



ΑΣΚΗΣΗ 6. Συμπλήρωσε το παρακάτω σταυρόλεξο αριθμών.

	1	2	3	4
1	3	6	1	1
2				
3				
4				



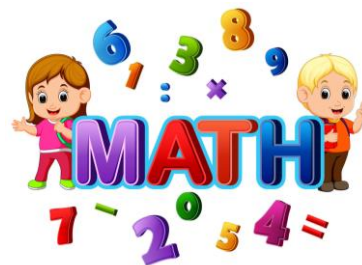
ΟΡΙΖΟΝΤΙΑ: Βάλε τους παρακάτω αριθμούς στο σταυρόλεξο, με αριθμητικά σύμβολα.

1. Τρεις χιλιάδες εξακόσια έντεκα.
2. Εφτά χιλιάδες πεντακόσια σαράντα δυο.
3. Χίλια τετρακόσια ενενήντα εννιά.
4. Οκτώ χιλιάδες έξι.



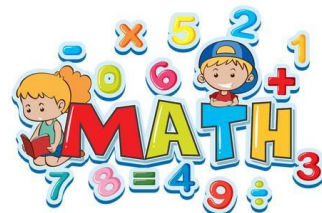
ΚΑΘΕΤΑ: Παρατήρησε στο σταυρόλεξο τους αριθμούς που σχηματίστηκαν κάθετα. Γράψε τους πιο κάτω, με γράμματα.

1. _____
2. _____
3. _____
4. _____



ΑΣΚΗΣΗ 7. Εργάζομαι προσεκτικά στο βιβλίο Μαθηματικών, Μέρος 4 (το καινούριο βιβλίο που πήραν οι γονείς σας από το σχολείο), στις ακόλουθες ασκήσεις:

- **Στη σελίδα 15,** όπου πρέπει να εκτιμήσεις, περίπου, τον αριθμό ανθρώπων που μπορεί να χωρέσουν σ' ένα μεταφορικό μέσο (αυτοκίνητο, πλοίο, τρένο, κτλ.). Δεν υπάρχει μόνο μια σωστή απάντηση για το κάθε ένα.
- **Στη σελίδα 16,** τις ασκήσεις 1 και 2. Στην άσκηση 1 πρέπει να γράψεις τους αριθμούς με λέξεις και στην άσκηση 2 με αριθμητικά σύμβολα.
- **Στη σελίδα 17,** την άσκηση 3, όπου πρέπει να φτιάξεις εσύ τον δείκτη στη ζυγαριά για να δείξεις τη μάζα του κάθε ζώου. Μελέτησε προσεκτικά πώς προχωρούν τα σημεία στη ζυγαριά.
- **Στη σελίδα 18,** την άσκηση 4, όπου θα τοποθετήσεις τους αριθμούς που σου δίνονται, μέσα σε κείμενο, ανάλογα με το τι παρουσιάζουν: χρονολογία, ημερομηνία, αριθμός αθλητών, αριθμός χωρών. Χρησιμοποίησε τη λογική σου για να διαλέξεις σωστά τους αριθμούς.
- **Στη σελίδα 18,** την άσκηση 5, όπου πάλι θα χρησιμοποιήσεις τη λογική σου για να διαλέξεις τον αριθμό που ταιριάζει σε κάθε πρόταση.



ΑΣΚΗΣΗ 8: Κάνε κλικ για να παίξεις και να εξασκηθείς καλύτερα στην ανάγνωση των αριθμών μέχρι το 10 000.

▪ **ΠΑΙΧΝΙΔΙ 1:** αριθμοί μέχρι το 2000

<https://wordwall.net/el/resource/6718525/%CE%B4%CE%B9%CE%B1%CE%B2%CE%AC%CE%B6%CF%89-%CE%B1%CF%81%CE%B9%CE%B8%CE%BC%CE%BF%CF%8D%CF%82-%CF%89%CF%82-%CF%84%CE%BF-2000>

▪ **ΠΑΙΧΝΙΔΙ 2:** σταυρόλεξο με αριθμούς μέχρι το 7000

<https://wordwall.net/el/resource/1718752/%CE%B1%CF%81%CE%B9%CE%B8%CE%BC%CE%BF%CE%AF-%CE%BC%CE%AD%CF%87%CF%81%CE%B9-%CF%84%CE%BF-7000-%CE%B3%CF%81%CE%AC%CF%88%CE%B5-%CF%84%CE%BF%CF%85%CF%82-%CE%B1%CF%81%CE%B9%CE%B8%CE%BC%CE%BF%CF%8D%CF%82-%CF%80%CE%BF%CF%85-%CE%B6%CE%B7%CF%84%CE%BF%CF%8D%CE%BD%CF%84%CE%B1%CE%B9-%CF%83%CF%84%CE%BF>

▪ **ΠΑΙΧΝΙΔΙ 3:** Ο τροχός της τύχης: διάβασε τους αριθμούς, βρες τον προηγούμενο και τον επόμενο αριθμό

<https://wordwall.net/el/resource/7875428/%CE%BF%CE%B9-%CE%B1%CF%81%CE%B9%CE%B8%CE%BC%CE%BF%CE%AF-%CF%89%CF%82-%CF%84%CE%BF-10000>

ΚΑΛΗ ΔΟΥΛΕΙΑ!!!

