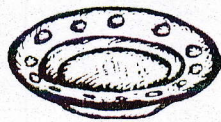


Το σπιτάκι του αριθμού 3

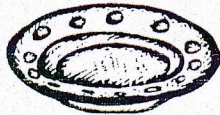
1. Συμπληρώνω τους αριθμούς στα κουτάκια και γράφω εξισώσεις.

3

2. Βάζω 3 μήλα με διαφορετικούς τρόπους στα πιάτα και γράφω εξισώσεις.




$$\underline{\quad} + \underline{\quad} = 3$$



$$\underline{\quad} + \underline{\quad} = 3$$



$$\underline{\quad} + \underline{\quad} = 3$$



$$\underline{\quad} + \underline{\quad} = 3$$